


# አካባቢ ሳይንስ

## የተማሪዎች መጽሐፍ





# PDF Compressor Free Version

## በጥንቃቄ በመያዝ ተጠቀም/ሚበት



ይህ መጽሐፍ የትምህርት ቤት/ህ/ሽ ንብረት ነው። ጉዳት እንዳታደርስበት/ሺበት ወይም ጉዳት እንዳይደርስበት ጠብቅ/ጠብቁ።

ይህን መጽሐፍ በጥንቃቄ በመያዝ መከተል ያለበትን መመሪያዎች ተጠቀም/ሚ

1. መጽሐፉን በጋዜጣ፣ በፕሊስቲክ ወይም በተገኘው ወረቀት ሸፍን/ኚ ።
2. መጽሐፉን ሁሌጊዜ ደረቅ እና ንፁህ በሆነ ቦታ አስቀምጥ/ጩ።
3. መጽሐፉን ሁሌጊዜ በንፁህ እጅ ያዝ/ገር።
4. መጽሐፉን ላይ ምንም አይነት ፅሁፍ አትጻፍ/ፊ።
5. የምትፈልገውን/ጊውን ቦታ በመክፈት ካርድ ወይም ብጣሽ ወረቀት እንደ ምልክት በማስቀመጥ ተጠቀም/ሚ ።
6. አንድም ገፅ ወይም አንድም ስዕል ከውስጡ ለመቅደድ አትሞክር/ሪ።
7. የተቀደደ ገፅ ካለ በማስትሽ ወይም በፕሊስቲክ አያይዝ/ገር።
8. በመንገድ ላይም መጽሐፍ በማይጎዳ ሁኔታ ያዝ/ገር።
9. መጽሐፉን ለሌላ ሰው ስታውስ/ሺ በጥንቃቄ ይሁን።
10. በአዲስ መጽሐፍ ለመጀመሪያ ጊዜ ስትጠቀም/ሚ፣ መጽሐፉን በጀርባ በማስቀመጥ በአንድ ጊዜ ጥቂት ገጾችን ብቻ ገልብጥ/ጩ። ቀስ ብለህ/ሽ የመጽሐፉን መሃል በእጅህ/ሽ ጫን በል/ይ። ይህም ዘዴ የመጽሐፉን ሽፋን እንዳይጎዳ ይረዳል።

# የአስባቢ ሳይንስ

## የተማሪዎች መጽሐፍ አንደኛ ክፍል

### አዘጋጅች

ጋዲሳ በዳዳ

ንጉሴ ለማ

ቴጃኒ ሁሴን

ዘውዱ ቴሉ

### ገምጋሚዎች

ደረጃ መኮንን

### አርታኢዎች

አሰግድ ደረጃ

ፍቃዱ ከበደ

ግርማዬ ደፋር

ጉታ ሁንዴ

ታርኩ ድጋ

### ተርጓሚ

ብርሃኑ ለታ

### ግራፊክስ

ታደሰ ድንቁ

### ምስል ገለጻ

ብዙአየሁ ግርም

PDF Compressor Free Version



© የክሊሚያ ትምህርት ቤቅ፣ 2014/2022

ይህ መጽሐፍ በክሊሚያ ትምህርት ቤቅ እና በአሰላ መምህራን ትምህርት ኮሌጅ ትብብር በ2014/2022 ተዘጋጀ።

የዚህ መጽሐፍ የባለቤትነት መብት በህግ የተጠበቀ ነው። ከክሊሚያ ትምህርት ቤቅ ፈቃድ ውጪ በሙሉም ሆነ በክፍል ማሳተፍም ሆነ አባዝተው ማሰራጨት በህግ ያስጠይቃል።

**ይዘት**

**ገፅ**

**ምዕራፍ 1 ሳይንስን መገንዘብ.....1**

1.1. ውጫዊ የአካል ክፍሎቻችን.....1

1.2. የስሜት ህዋሳት እና ጥቅሞቻቸው.....4

1.3. ለስሜት ህዋሳቶቻችን ሊደረጉ የሚገቡ ጥንቃቄዎች.....8

1.4. በስሜት ህዋሳት መካከል ያለው ግንኙንት.....9

1.5. የግል ንፅህናን መጠበቅ.....12

1.6 ብርሃን.....16

**ምዕራፍ 2 መገኛ ምዕራፍ የመ 1.....20**

2.1. የመገኛ ምንነት.....20

2.2 አቅጣጫዎች.....22

2.3 የመኖሪያ መንደር፣ መንገድና የትምህርት ቤት መገኛን በማነፃፀር ማየት.....25

2.4 የጎረቤታችን ስምና መገኛ.....26

**ምዕራፍ 3 የተፈጥሮ አካባቢ.....30**

3.1 የአየር ጠባይ.....30

3.2. የተፈጥሮ ክስተቶች.....31

3.3 በአካባቢያችን የሚገኙ ሕይወት ያላቸውና ሕይወት የሌላቸው ነገሮች.....36

3.4 የገልጽ ማህበራዊ ገፅፅ .....55

**ምዕራፍ 4 ማህበራዊ አካባቢ.....59**

4.1. የቤተሰብ አባላትና የሥራ ድርሻቸው.....59

4.2 ለቤተሰብ ኑሮ የሚያስፈልጉ መሠረታዊ ነገሮች68

4.3 የትምህርት ቤታችን ማህበረሰብ.....71

4.4 የትምህርት ቤት ማህበረሰብ ግንኙነት.....71

4.5 የትምህርት ቤት ሥርዓትና ደምብ.....75

**ምዕራፍ 5 ትኩረት የሚሹ ዋና ዋና ጉዳዮች.....77**

5.1. የመንገድ አጠቃቀም ጥንቃቄ.....77

5.2 ኤችአይቪ/ኤድስ.....81

PDF Compressor Free Version

# ምዕራፍ 1

## ሳይንስን መገንዘብ

### 1.1. ውጫዊ የአካል ክፍሎቻችን

#### የግንዛቤ ጥያቄ

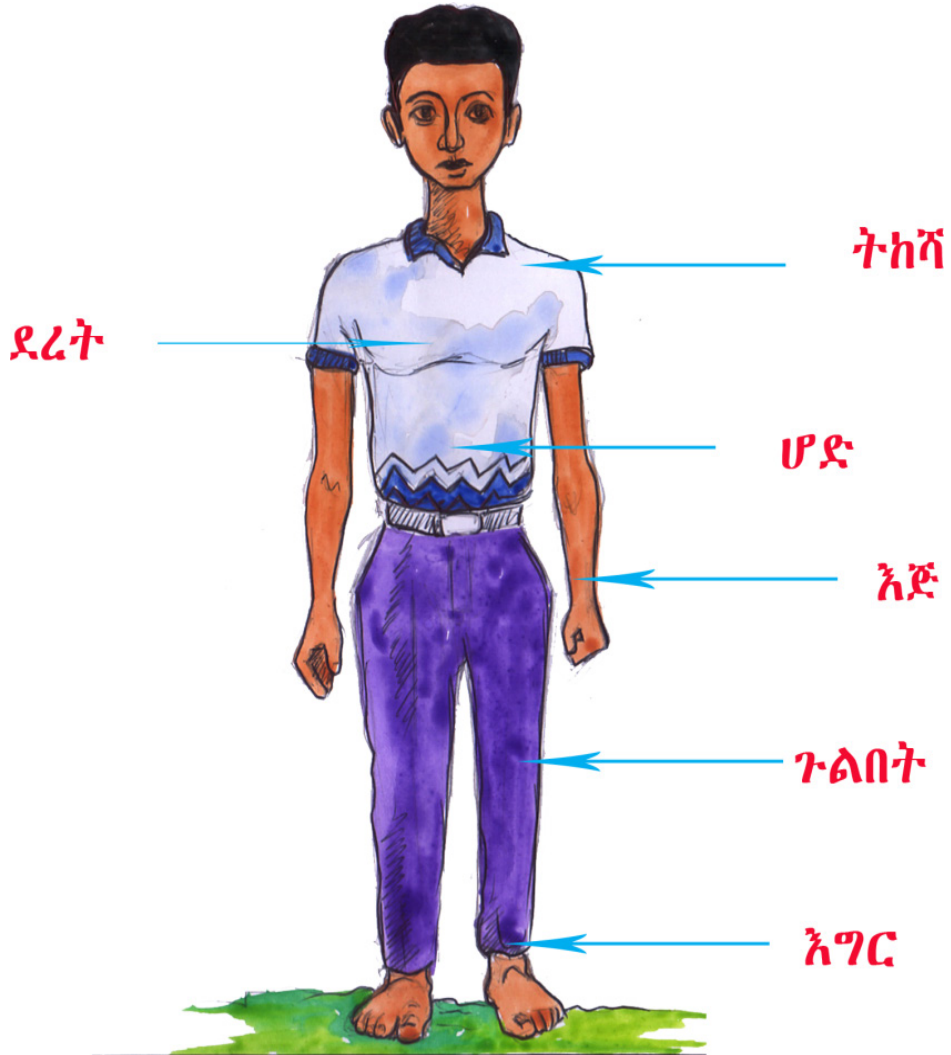
ውጫዊ የአካል ክፍሎቻችሁ ምን ምን ናቸው?

ሀ/ ከአንገት በላይ ያሉ የሰው ውጫዊ አካል ክፍሎች



PDF Compressor Free Version

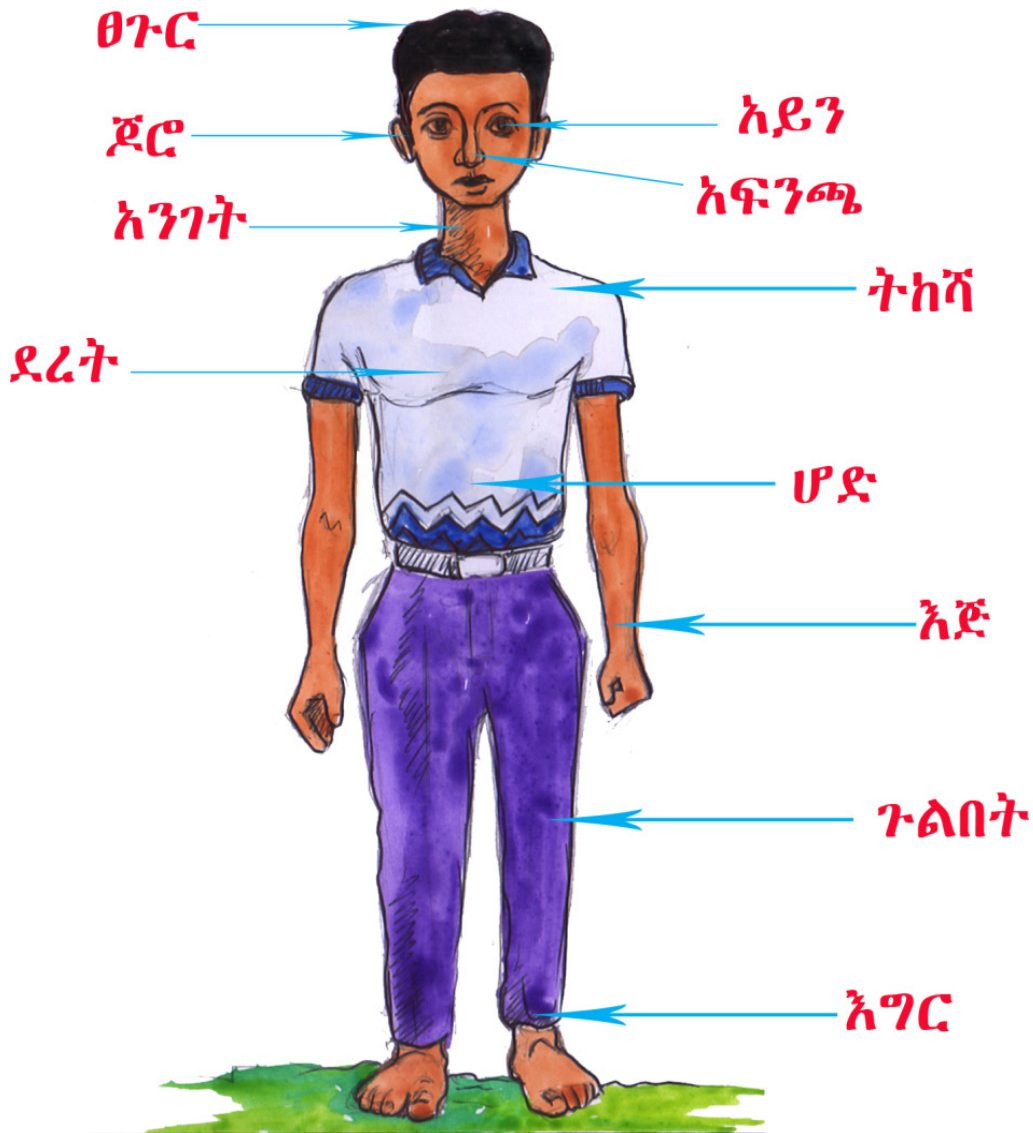
# ለ/ ከአንገት በታች ያሉ የሰው ውጫዊ አካል ክፍሎች





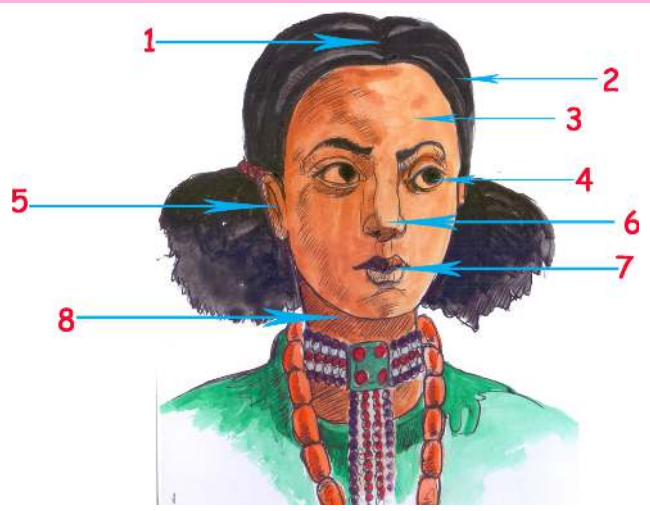
PDF Compressor Free Version

ሐ/ መ.ሊ. የሰው ውጫዊ አካል ክፍሎች

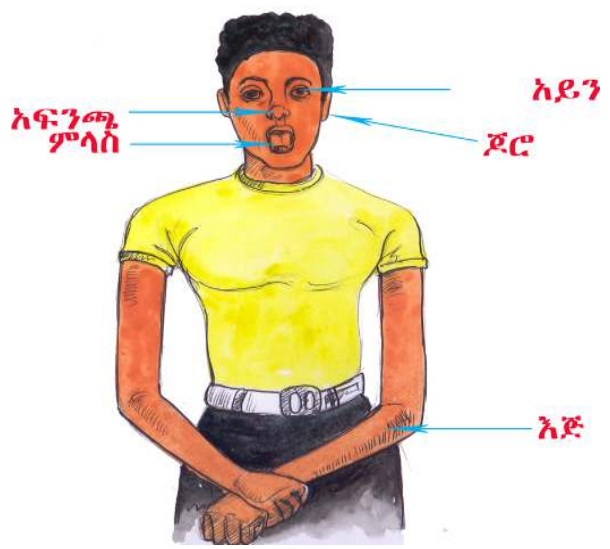


PDF Compressor Free Version  
ተግባር 1.1

1. ውጫዊ የአካል ክፍሎቻችሁን ለርስበርሳችሁ አሳዩ።
2. የእያንዳንዱን ውጫዊ የአካል ክፍሎች ከሚከተለው ሥዕል ላይ ለእርስበርሳችሁ አሳዩ።



1.2. የሰሜት ህዋሳት እና ጥቅሞቻቸው  
ሀ. አምስቱ የሰሜት ህዋሳት



PDF Compressor Free Version  
የገንዘብ ጥያቄ

ከዚህ በታች ያሉትን የስሜት ህዋሳት ስሞች ለእርስበርሳችሁ ተናገሩ።



ሀ



ለ



ሐ



መ



ሠ

### የገንዘብ ጥያቄዎች

1. የስሜት ህዋሳቶቻችሁን ለንደኞቻችሁ ተናገሩ።
2. የስሜት ህዋሳቶቻችሁን ለንደኞቻችሁ አሳዩ።

### ለ. የስሜት ህዋሳት ጥቅሞች




PDF Compressor Free Version

ለግጥ

ለመስማት



ለመቅመስ



ለማሸተት



ለመዳሰስ

**የግንዛቤ ጥያቄ**

እነዚህን ሥዕሎች በመመልከት የስሜት ህዋሳቶችን ጥቅም ለጓደኞቻችሁ ተናገሩ።



ሀ



ለ



ሐ



መ



ወ

የስሜት ህዋሳቶችን ከጥቅሞቻቸው ጋር በመስመር በማገናኘት አዛምድ/አዛምጂ።

1. ለማሻተት



2. ለመቅመስ



3. ለመዳሰስ



4. ለመስማት



5. ለማየት



### 1.3. ለሰሜት ህዋሳቶቻችን ሊደረጉ የሚገቡ ጥንቃቄዎች

## የግንዛቤ ጥያቄ

ለሰሜት ህዋሳቶቻችን ሊደረጉ የሚገቡ ጥንቃቄዎችን ተናገሩ፡፡



ፀሐይ ውስጥ አለማንበብ



ጨለም ያለ ቦታ ላይ አለማንበብ



ስለት ባላቸው ነገሮች ጆሮን አለመነካካት



ከፍተኛ ከሆነ ድምፅ ራስን መጠበቅ


PDF Compressor Free Version



ምላሽን የሚጎዱ ነገሮችን አለመቅመስ



አፍንጫን ነገሮችን አለመነካካት




ስለት ካላቸው ነገሮች ራስን መጠበቅ

### 1.4. በስሜት ህዋሳት መካከል ያለው ግንኙንት

#### የግንኙንት ጥያቄ

የሚከተሉትን ሥዕሎች በመመልከት በስሜት ህዋሳት መካከል ያለውን ግንኙንት ተናገር/ተናገሪ::

PDF Compressor Free Version



አፍንጫን በመያዝ በምላስ መቅመስ



አፍን በመያዝ በአፍንጫ ማሽተት

አፍና አፍንጫ ግንኙንት አላቸው።

### ተግባር 1.3

በስሜት ህዋሳቶች መካከል ያለውን ግንኙንት ለመረዳት

የሚያስፈልጉ ነገሮች፡- ሎሚ፣ ስኳር፣ ጨው፣ አበባ

1. አፍንጫን በመያዝ በምላስ/ሽ ከረሜላ፣ ሎሚና ጨው ተራ በተራ ቅመስ/ሺ፣
2. በተመሳሳይ ሁኔታ አፍን በመያዝ አበባና ሎሚ አሽተት/ቺ፣
3. ከዚህ ሙከራ የተረዳህን/ሽን ለመምህርህ/ሽ ተናገር/ሪ።



PDF Compressor Free Version  
ተገቢ 1.4

የስሜት ህዋሳቶችን ጥቅም ለመረዳት የበቆሎ፣ ማሽላ ወይም ፈንዲሻ ቆሎ እየተንጣጣ ሲቆላ መመልከት፡፡



ቆሎ ስንጣጣ የሚያወጣ ድምፅ በየትኛው የስሜት ህዋስ እንለያለን?

የቆሎውን ቀለም በየትኛው የስሜት ህዋስ እንለያለን?

የቆሎውን ሽታ በየትኛው የስሜት ህዋስ እንለያለን?

የቆሎውን ጥንካሬና ልስላሴ በየትኛው የስሜት ህዋስ እንለያለን?

የቆሎውን ጣዕም በየትኛው የስሜት ህዋስ እንለያለን?

1.5. የገልገሎት ገፅ ማሻሻያ

የግንባቤ ጥያቄ

በሥዕሎቹ ላይ እየተደረጉ ያሉትን ተግባራት ለእርስበርሳችሁ ተናገሩ።



PDF Compressor Free Version  
ተግባር 1.5

የሚከተሉትን ተግባራት በቅደም ተከተል በመተግበር አሳይ/አሳዩ፡፡

1. እጅን መታጠብ
2. ፊትን መታጠብ
3. እግርን መታጠብ

የሚያስፈልጉ ነገሮች፤

- ውሀ
- ሳሙና

PDF Compressor Free Version  
ተግባር 1.6

### በመስመር በማያያዝ አዛምድ/ጂ።።



ፊትን መታጠብ



ጥርስን መቦረሽ



እጅን መታጠብ



ገሳን መታጠብ

PDF Compressor Free Version

የግል ንፅህናን መጠበቅ ያለውን ጥቅም ወላጆችህን/ ሽን በመጠየቅ ለክፍሉ ተናገር/ሪ::

ለሌሎች ሰዎች ጤንነት ማሰብ



የሽንት ቤትን ንፅህና



መጠበቅና መጠቀም



አፍና አፍንጫን



በመሽፈን መሳል



ሰለት ያላቸውን ነገሮች በጋራ አለመጠቀም



1.6 ብርሃን PDF Compressor Free Version

የግንዛቤ ጥያቄ

ብርሃን ምንድን ነው? ጨለማስ?

ብርሃን አካባቢያችንን ለማየት የሚረዳ ነው።

ብርሃን ከብርሃን ምንጮች ይገኛል።

የብርሃን ምንጮች



የፀሐይ ብርሃን



የከዋክብት ብርሃን



የአምቲል ብርሃን



የሸማ ብርሃን

PDF Compressor Free Version

ጨለማ በብርሃን አለመኖር የሚከሰት ነው።



ሀ/ ትክክለኛ የሆነውን መልስ ምረጥ/ጩ።

1. በሬድዮ የሚተላለፈውን ድምፅ የምንለየው በየትኛው የስሜት ህዋስ ነው?

ሀ/ አፍንጫ ለ/ጆሮ

2. የነገሮችን ሽታ የምንለየው በየትኛው የስሜት ህዋስ ነው?

ሀ/ ምላስ ለ/አፍንጫ

3. የነገሮችን ጣዕም የምንለየው በየትኛው የስሜት ህዋስ ነው?

ሀ/ ምላስ ለ/እጅ

4. የነገሮችን የምናየው በየትኛው የስሜት ህዋስ ነው?

ሀ/ጆሮ ለ/አይን

5. የነገሮችን ሙቅትና ቅዝቃዜ የምንለየው በየትኛው የስሜት ህዋስ ነው?

ሀ/እጅ ለ/አፍንጫ

PDF Compressor Free Version

### ለ/ በመስመር በገጽገገ አዛምድ/ጂ፡፡

1. አፍንጫ



2. ጆሮ



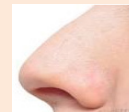
3. ከንፈር



4. እግር



5. እጅ

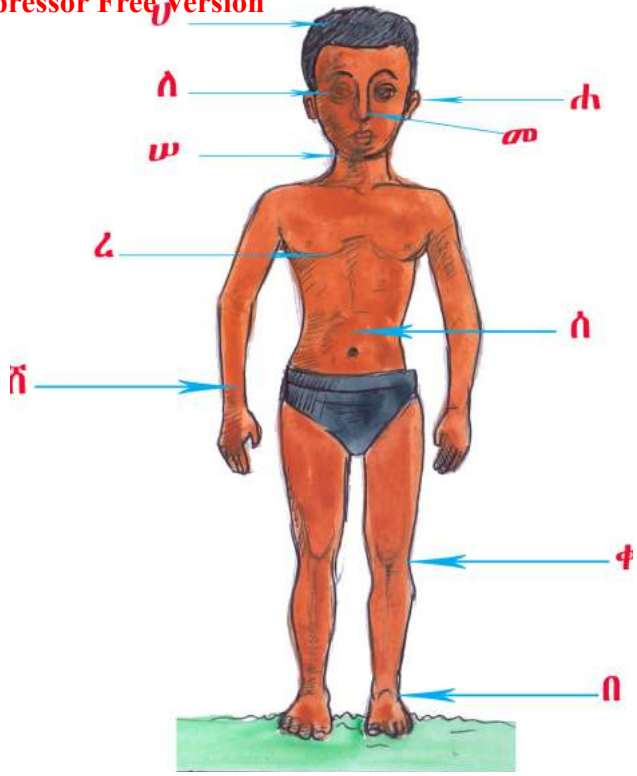


ሐ/ የሚከተሉትን ጥያቄዎች መልስ/ሺ፡፡

በሚከተለው ሥዕል ላይ የሚታዩትን የሰው ውጫዊ የአካል ክፍሎችን ተናገር/ሪ፡፡



PDF Compressor Free Version



መ/ የሚከተሉትን የሰውነት ህዋሳትን ጥቅም ተናገር/ሪ::



ሀ



ለ



ሐ



መ



ሠ

1. ለአይን፣ ጆሮና አፍንጫ ሊደረጉ የሚገቡ ጥንቃቄዎች ምን ምን ናቸው?


PDF Compressor Free Version

# ምዕራፍ 2

## መገኛ

### 2.1. የመገኛ ምንነት

መገኛ የአንድ ነገር ወይም ቦታ ሚያመለክት ነው።



### የግንዛቤ ጥያቄ

በዚህ ሥዕል ውስጥ ምን ምን ታያለህ/ሽ?

PDF Compressor Free Version



መምህራን በተማሪዎቹ ፊት ለፊት ይገኛሉ።  
 የመማሪያ ክፍሎች ከመምህራን በስተኋላ ይገኛሉ።



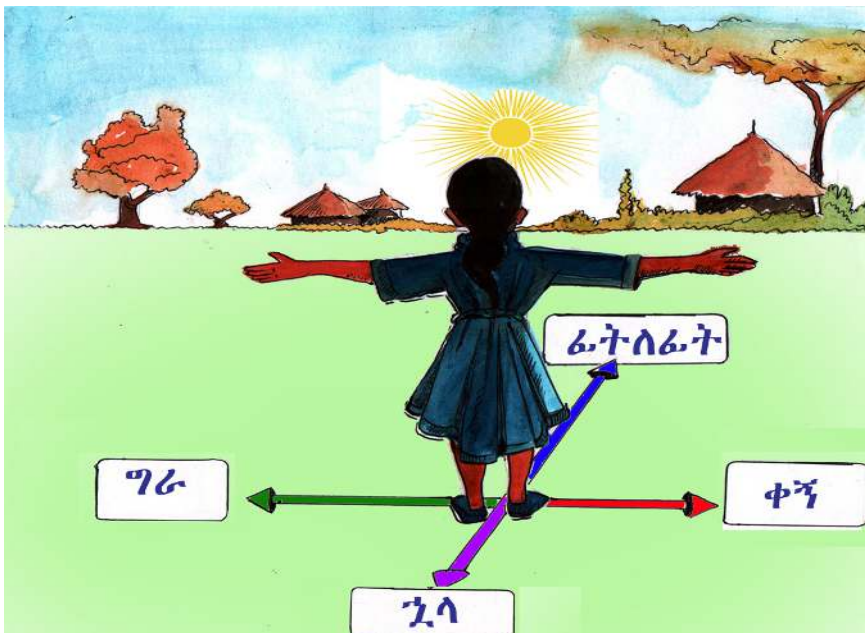
ተማሪዎች በመማሪያ ክፍሎች ፊት ለፊት ይገኛሉ።



PDF Compressor Free Version

መምህርቷ ከተማሪዎች ፊትለፊት ትገኛለች።

## 2.2 አቅጣጫዎች



PDF Compressor Free Version




መኖሪያ ቤቶቹ ከተማሪዎቹ በስተኋላ ይገኛሉ።  
 ትልቁ ዛፍ ከተማሪዎቹ በስተግራ ይገኛል።

ስተግራ  
 በስተቀኝ  
 በስተኋላ  
 ፊት-ለፊት



የግንባቤ ጥያቄ


1. ከብቶቹ ከተማሪዎቹ በየት በኩል ይገኛሉ?
2. ትምህርት ቤት ከተማሪዎቹ በየት በኩል ይገኛል?



መኖሪያ መንደሩ ከተማሪዎቹ በስተግራ ይገኛል።  
 ትምህርት ቤቱ ከተማሪዎቹ በስተኋላ ይገኛል።

የግንባቤ ጥያቄ

ሱቅ ከተማሪዎች በየት በኩል ይገኛል?



ጤና ኬላው ከመኖሪያ ቤቶቹ በስተኋላ ይገኛል።

የግንባታ ስራዎች PDF Compressor Free Version

1. የቀበሌ ጽህፈት ቤቱ ከመኖሪያ ቤቶቹ በየት በኩል ይገኛል?
2. ትራክቲኖ ከመኖሪያ ቤቶቹ በየት በኩል ይገኛል?
3. የአዳዲስ ዛፍ ከመኖሪያ ቤቶቹ በየት በኩል ይገኛል?

2.3. የመኖሪያ መንደር፣ የመንገድና የትምህርት ቤት መገኛን በማነፃፀር ማየት



መንገድ በመኖሪያ መንደርና በትምህርት ቤት መሃከል ይገኛል።

የመኖሪያ መንደር ከመንገድ በስተቀኝ ይገኛል።

**የግንዛቤ ጥያቄ** PDF Compressor Free Version

**ትምህርት ቤት ከመንገድ በየት በኩል ይገኛል?**

**2.4 የጎረቤታችን ስምና መገኛ**



**የግንዛቤ ጥያቄ**

**ከቤታችሁ በስተግራና በስታቀኝ የሚገኙትን ጎረቤቶቻችሁን ለእርስበርሳችሁ ተናገሩ።**



የአቶ ቶላ ቤት



የወይዘሮ ቦንቱ ቤት



የአቶ ፈይሶ ቤት

**የወይዘሮ ቦንቱ ቤት ከአቶ ፈይሶ ቤት በስተግራ በኩል ይገኛል።**



BDF Compressor Free Version  
የፖለቲካ ስርዓት

የአቶ ቶላ ቤት ከወይዘሮ ቦንቱ ቤት በየት በኩል ይገኛል?

**ተግባር 2.1**

የትምህርት ቤታችሁን ግቢ በመመልከት፡-

1. ሸንት ቤት ከመማሪያ ክፍላችሁ በየት በኩል ይገኛል?
2. የስፖርት ሜዳ ከመማሪያ ክፍላችሁ በየት በኩል ይገኛል?

**የምዕራፍ 2 መልመጃ ጥያቄዎች**

ሀ/ ሥዕሉን በመመልከት እውነት ወይም ሐሰት በማለት መልስ/መልሺ.፡፡



1. ባንኩ ከህንጻው ፊት ለፊት ይገኛል፡፡
2. መኖሪያ ቤቱ ከባንኩ ጀርባ ይገኛል፡፡
3. አምቡላንሱ ከሆስፒታል ፊት ለፊት ይገኛል፡፡
4. መኪና ከባንክ በስተኃላ ይገኛል፡፡

ላ/ ይህን ሥዕል በመመልከት ጥያቄዎችን መልስ/ሺ።

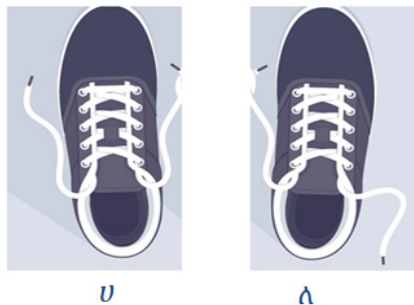


1. ከመኖሪያ ቤቱ በስተኋላ ምን ይገኛል?
2. በቆሎው ከቤቱ በየት በኩል ይገኛል?
3. በጎቹ ከቤቱ በየት በኩል ይገኛሉ?
4. ከብቶቹ ከመኖሪያ ቤቱ በየት በኩል ይገኛሉ?

ሐ/ የተግባር መልመጃ

1. የዛፎችና የመኖሪያ ቤቶችን ሥዕል ሳል/ይ።
2. የነዚህን ሥዕሎች መገኛ በማነፃፀር ተናገር/ሪ።

መ/ ከዚህ በታች ካሉት ጫማዎች የቀኝ እግር የሆነው የትኛው ነው?



PDF Compressor Free Version

# ምዕራፍ 3

## የተፈጥሮ አካባቢ

### 3.1 የአየር ጠባይ



ዳመና



ዝናብ



ንፋስ



ፀሐይ



መቀት



ቀዝቃዛ

የአየር ጠባይ በየጊዜው ይለዋወጣል፡፡

### 3.2. የተፈጥሮ ክብኝቶች

ቀን፣ ሌሊት፣ በጋ፣ ክረምት፣ ፀደይ፣ በልግ፣ ድርቅ፣ ጎርፍ፣ ቀስተደመና

ሀ/ በመፈራረቅ የሚፈጠሩ፡-

#### 1. ቀንና ሌሊት



ቀን

ሌሊት

ፀሐይ ወጥታ እስከምትጠልቅ ድረስ ያለው ጊዜ ቀን ይባላል፡፡

ፀሐይ ጠልቃ እስከምትወጣ ድረስ ያለው ጊዜ ሌሊት ይባላል፡፡

## 2. PDF Compressor Free Version

### ክረምት



የዝናብ ጊዜ፤ ችግኝ የሚተከልበት ጊዜ

### ፀደይ



ዝናብ የሚያቆምበትና አበቦች የሚያብቡበት ጊዜ

### ቦጋ



እህል የሚወቃበትና ምርት የሚሰበሰብበት ጊዜ

### በልግ



ዝናብ አልፎ አልፎ የሚዘንብበትና ሣር የሚበቅልበት ጊዜ

PDF Compressor Free Version

1. የሚከተሉትን ሥዕሎች ተመልከት/ቺ። እያንዳንዱ ሥዕል ስለወቅት ምን ያሳያል?



ለ/አልፎ አልፎ የሚፈጠሩ የተፈጥሮ ክስተቶች

1. ቀስተ ደመና

የግንዛቤ ጥያቄ

ቀስተ ደመና በምን ጊዜ ይከሰታል?

PDF Compressor Free Version



ቀስተ ደመና የፀሐይ ብርሃን በዝናብ ውስጥ በሚያልፍበት ጊዜ ይፈጠራል።

## 2. ጎርፍ

### የግንዛቤ ጥያቄ

በአካባቢያችሁ ጎርፍ የሚከሰተው መቼ ነው?



ጎርፍ ዝናብ በሚበዛበት ጊዜ ይከሰታል።



3. PDF Compressor Free Version

**የግንዛቤ ጥያቄ**

ድርቅ የሚከሰተው መቼ ነው?



ድርቅ የሚከሰተው የዝናብ እጥረት ስኖር ነው።

**የግንዛቤ ጥያቄ**

ከዚህ በታች ያሉትን የተፈጥሮ ክስተቶች በባህሪያቸው መሠረት በሠንጠረዥ ውስጥ ጻፍ/ፊ።

|     |     |      |     |
|-----|-----|------|-----|
| ንፋስ | ጎርፍ | ክረምት | ፀደይ |
| በጋ  | ቀን  | ሌሊት  | ድርቅ |

|               |                   |
|---------------|-------------------|
| አልፎ አልፎ ይከሰታል | በዙር እየተፈራረቀ ይከሰታል |
| ንፋስ           | ክረምት              |
|               |                   |
|               |                   |
|               |                   |
|               |                   |

### 3.3. በአካባቢያችን የሚገኙ ሕይወት ያላቸውና ሕይወት የሌላቸው ነገሮች

#### 1. በአካባቢያችን የሚገኙ ሕይወት ያላቸው ነገሮች

እፅዋት  
እንስሳት

#### ሀ/ የአካባቢያችን እፅዋት



ጥድ



ግራር



ዝግባ



አዳ



PDF Compressor Free Version

በቆሎ

ቡና



ማሽላ



ሙዝ




ማንጎ



ቲማትም



ሸንኮራ አገዳ



ድንች



ኅመን

**ተግባር 3.2**

የትምህርት ቤታችሁን ግቢ በመመልከት የሚገኙትን እፅዋት ስም ተናገሩ።

**ለ/ የአከባቢያችን እንስሳት**

**የግንዛቤ ጥያቄ**

በአከባቢያችን የሚገኙትን እንስሳት ስም ተናገር/ሪ።



ላም



ፈረስ



በግ



ወሻ



ድመት



ደሮ



ወፍ



የሜዳ አህያ



ዋሊያ




ቀይ ቀበሮ



ዝንጅሮ



ጅብ



ዓሣ



አዞ



ዝንብ

# ሕይወት ያላቸው ነገሮች ባህሪያት

## 1. የእፅዋት ባህሪያት

### ሀ/ እፅዋት ያድጋሉ




**ተግባር 3.3**

1. በውሃ በተራሰ አፈር በተሞላ ፕላስቲክ ውስጥ የባቄላን ዘር በማስቀመጥ አብቅል/ይ።
2. የበቀለውን ችግኝ የፀሐይ ብርሃን ባለበት ቦታ አስቀምጥ/ጩ።
3. የዚህን ችግኝ ሁኔታ በየዕለቱ ተመልከት/ቺ።
4. በችግኙ ላይ ያየህውን ለውጥ ሥዕል ስለህ/ሽ ለጓደኞችህ/ሽ አሳይ።

### ለ/ እፅዋት ይራባሉ



PDF Compressor Free Version  
ሐ/ እግሩ ስለሆነ አላየው



እጅዎት ብርሃን ወደ አለበት አቅጣጫ ያድጋሉ።

### ተግባር 3.4

1. በተግባር 3.3 ውስጥ ያበቀልከውን/ሺውን ችግኝ የፀሐይ ብርሃን በሚያስገባ መስኮት ላይ አስቀምጥ/ጩ።
2. በዚህ ችግኝ ላይ በየዕለቱ የሚታዩትን ባህሪያት ተመልከት/ቺ።
3. በዚህ ችግኝ ላይ የተመለከትከውን/የተመለከትሺውን በክፍል ውስጥ ተናገር/ሪ።

## 2. የእንስሳት ባህሪያት


ሀ/ እንስሳት ያድጋሉ





PDF Compressor Free Version



ለ/ እንስሳት ይራባሉ





ሐ/ እንስሳት ይመገባሉ





መ/ PDF Compressor Free Version ማሻሻያው



ሠ/ እንስሳት ይተነፍሳሉ



ረ / እንስሳት ከቦታ ቦታ ይንቀሳቀሳሉ





BDF Compressor Free Version  
የፕላይ ፕላይ

እፅዋትንና እንስሳትን የሚያመሳስሉ ባህሪያትን ተናገር/ሪ።

የአከባቢያችን እንስሳት ምድብ

የቤት እንስሳት  
የዱር እንስሳት

1. የቤት እንስሳት

የቤት እንስሳት ከሰው ጋር ተላምደው የሚኖሩ ናቸው።



ዶሮ



አሀያ



በግ



ፍየል



በቅሎ



ፈረስ



ድመት



ወሻ



በሬ

በመናጭ አካባቢ/ባዕሳ ከሰው ጋር ተላምደው የሚኖሩ እንስሳት ምን ምን ናቸው?

የቤት እንስሳት ምድቦች

ሀ/ ለምግብነት የሚውሉ የቤት እንስሳት

**የግንዛቤ ጥያቄ**

በአካባቢያችሁ ለምግብነት የሚውሉ የቤት እንስሳትን ለእርስበርሳችሁ ተናገሩ።

ለ/ ለመጓጓዣነት የሚውሉ የቤት እንስሳት

**የግንዛቤ ጥያቄ**

በአካባቢያችሁ ለመጓጓዣነት የሚያገለግሉ የቤት እንስሳትን ለርስበርሳችሁ ተናገሩ።

**2. የዱር እንስሳት**

የዱር እንስሳት ከሰው ጋር ያልተላመዱ እንስሳት ናቸው።



ጅብ



ዝንጀሮ



ዋሊያ




አንስሳ



ቀይ ቀበሮ



ከርከሮ



ጦጣ



እባብ



ጥንብ አንሳ



አዞ



ጉርጥ

**የግንዛቤ ጥያቄ**

በአካባቢያችሁ የሚገኙ የዱር እንስሳት የሚኖሩት የት ነው?

**የእንስሳት ምድብ**

እንስሳት በአፈጣጠራቸው በተለያዩ ቡድኖች ይመደባሉ፡፡

**1. በአረባባቸው**

ሀ/ እንግዳሌ የሚገኝ የሚራቡ



ዶሮ



ወፍ



እባብ



አዞ

ለ/ በመውለድ የሚራቡ



ወሻ




የሌሊት ወፍ



ሰው



አሀያ



ላም



አይጥ

## 2. በእንቅስቃሴያቸው

### ሀ/ የሚበሩ እንስሳት



ጅግራ



ጥንብ አንሳ



ጭልፊት

### ለ/ በመሬት ላይ የሚሳቡ እንስሳት




ዘንዶ



እባብ

### ሐ/ በእግራቸው የሚራመዱ እንስሳት



ሰጎን



ዝሆን



ሚዳቋ

## 3. በእግራቸው ብዛት

### ሀ/ አራት እግር ያላቸው እንስሳት




PDF Compressor Free Version **ፍየል**

**ላም**


**ለ/ ሁለት እግር ያላቸው እንስሳት**



**ቆቅ**



**ዳክዬ**



**ሰጎን**

**ሐ/ ስድስት እግር ያላቸው እንስሳት**



**ዝንብ**



**ንብ**



**አንበጣ**

**መ/ እግር የሌላቸው እንስሳት**



**ቀንድ አውጣ**



**እባብ**



**ዓሣ**

**4. በአመጋገባቸው**

አንዳንድ እንስሳት እፅዋትን ይመገባሉ።

አንዳንድ እንስሳት ሥጋን ይመገባሉ።

BDF Compressor Free Version  
የገንዘብ ጥያቄ

### ከዚህ በታች የሚገኙ እንስሳት ምን ይመገባሉ?



ቀይ ቀበሮ



በግ


### ሀ/ እፅዋትን የሚመገቡ እንስሳት



ቀጭኔ



የሜዳ አህያ



ፈረስ



ላም




በጎች



ፍየል



ጥንቸል



ድኩላ


**ለ/ የግራም ስርዓት እንስሳት**



ቀበሮ




አንበሳ



ጥንብ አንሳ



ጅብ



ነብር

**ሐ/ እፅዋትንና ሥጋን የሚመገቡ እንስሳት**



ሰው



ዝንጅሮ



አይጥ

**5. በመኖሪያ ሥፍራቸው**

**ሀ/ በመሬት ላይ የሚኖሩ እንስሳት**



ቀበሮ



ዝሆን



አህያ



**ለ/ በውሃ ውስጥ የሚኖሩ እንስሳት**



ጉማሬ



ዓሣ

**ሐ/ በመሬት ላይና በውሃ ውስጥ የሚኖሩ እንስሳት**



እንቁራሪት



ጉርጥ

**6. በቆዳቸው ሽፋን**

**ሀ/ ሰውነታቸው በጠንካራ ቆዳ የተሸፈነ እንስሳት**



እዞ



ዓሣ



ዔሊ

**ለ/ ፀጉር ያላቸው እንስሳት**



ጦጣ



ፍየል



ፈረስ

ሐ/ የተማሪዎች ለማሳሰብ



እርግብ







ጭልፊት





ዶሮ

**ጥያቄ:**

በሠንጠረዥ ውስጥ ለተሰጡት እንስሳት ምግባቸውን ያረጋግጡ።

| እንስሳት   | ምግብ  |
|---|------|
|   |      |
|  |      |
|  | እፅዋት |
|  |      |

|  |  |
|--|--|
| <p>PDF Compressor Free Version</p>  |  |
|                                     |  |

## 2. ሕይወት የሌላቸው ነገሮች

በአከባቢያችን የሚገኙ ሕይወት የሌላቸው ነገሮች



ድንጋይ



ጠረጴዛ



ኳስ



መጽሐፍ



እስክርብቶ



ውሃ

ሕይወት የሌላቸው ነገሮች:-

አያድጉም

አይመገቡም

አይራቡም

አይተነፍሱም

አይንቀሳቀሱም

**BDF Compressor Free Version**  
**ተገቢ 3.6.**

የሚከተሉትን ነገሮች ሕይወት ባላቸውና ሕይወት በሌላቸው መድብ/ቢ



ዝግባ



ወንበር



ድንጋይ



ጉንዳን



ቢራቢሮ



ሸንኩርት



መኪና



ሚስማር



ማገዶ



ሣር

| <b>ሕይወት ያላቸው</b> | <b>ሕይወት የሌላቸው</b> |
|------------------|-------------------|
| ጉንዳን             | ድንጋይ              |
|                  |                   |
|                  |                   |
|                  |                   |

3.4 የግልጽ የአካባቢ ገፅና



**ምግብን ከመመገብ በፊትና ከተመገቡ በኋላ እጅን መታጠብ**



ጥርስን መቦረሽ



ገላን መታጠብ



ልብስን ማጠብ



መኖሪያ ቤትን ማፅዳት



አካባቢን ማፅዳት


PDF Compressor Free Version




ሽንት ቤት ከተጠቀሙ በኋላ እጅን መታጠብ



ንፅህናው የተጠበቀ ሽንት ቤት መጠቀም፡፡



ቆሻሻን በተዘጋጀለት ቦታ መጣል



የመማሪያ ክፍልንና የትምህርት ቤትን ግቢ ማፅዳት

የግልና የአከባቢ ንፅህና ለመጠበቅ የሚያስፈልጉ ሌሎች ነገሮች ጥቀስ/ሺ።

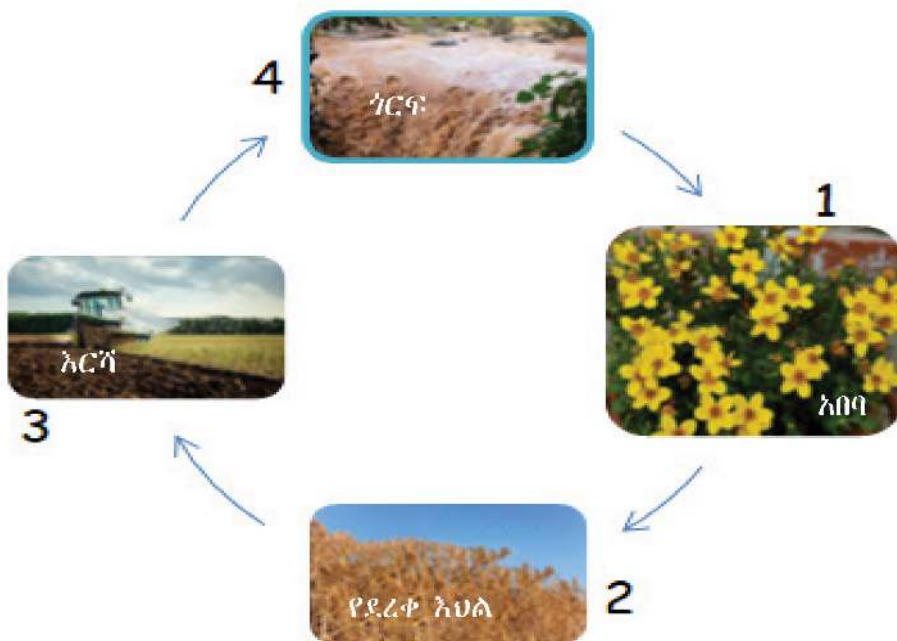
የምዕራፍ 3 መልመጃ ጥያቄዎች

ሀ/ ትክክለኛውን መልስ ምረጥ/ጫ።

- ክረምትን ተከትሎ የሚመጣ ወቅት ምን ይባላል?  
ሀ/ ፀደይ      ለ/ በልግ      ሐ/ በጋ      መ/ ክረምት
- እንቁላል በመጣል የሚራባው የትኛው ነው?  
ሀ/ በግ      ለ/ አይጥ      ሐ/ ሰጎን      መ/ ድመት
- በመውለድ የሚራባው የትኛው ነው?  
ሀ/ አዞ      ለ/ እባብ      ሐ/ ዶሮ      መ/ ፈረስ
- ጠንካራ የቆዳ ሽፋን ያለው የትኛው ነው?  
ሀ/ አዞ      ለ/ዶሮ      ሐ/ ላም      መ/ አህያ
- መሬት ላይ በመሳብ የሚሄደው የትኛው ነው?  
ሀ/ ጥንብ አንሳ      ለ/ ኤሊ      ሐ/ እባብ      መ/ ጥንቸል
- በአከባቢያችን በዓመት ውስጥ ስንት ወቅቶች አሉ?  
ሀ/ ሁለት      ለ/ ሦስት      ሐ/ አራት      መ/ አንድ
- የተፈጥሮ ክስተት የሆነ የትኛው ነው?  
ሀ/ቀስተ ደመና      ለ/ ጎርፍ      ሐ/ድርቅ      መ/ ሁሉም

ለ የሚከተሉትን ጥያቄዎች መልስ/ሺ

8. በዚህ ሥዕል ላይ ያሉ ቁጥሮች የትኛው ወቅት ይወክላሉ?



9. ድርቅ የሚከሰትው ምን ጊዜ ነው?

10. ሕይወት ያላቸውን ነገሮች ባህሪያት ዘርዘር/ሪ::

11. ሕይወት የሌላቸውን ነገሮች ባህሪያት ዘርዘር/ሪ::



PDF Compressor Free Version

# ምዕራፍ 4

## ማህበራዊ አካባቢ

### 4.1. የቤተሰብ አባላትና የሥራ ድርሻቸው

#### የቤተሰብ አባላት

አባት

እናት

ልጆች



#### የግንዛቤ ጥያቄ

የቤተሰብህን/ሽን አባላት ስም ለንደኛህ/ሽ ተናገር/ሪ።

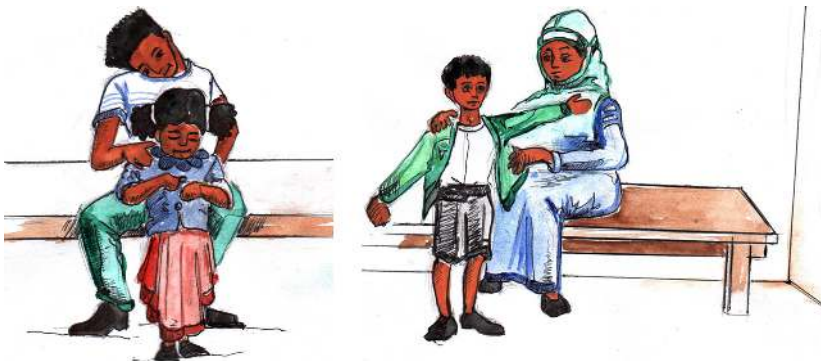
4.1. የግብዓት ለሳሳት የሥራ ድርሻ

1. የአባትና እናት የሥራ ድርሻ


ልጆችን መንከባከብና ማሳደግ



ምግብ መስጠት



ልብስ ማልበስ



ማጫወት



መምከር



እጅን ማጠብ



ፊትን ማጠብ

PDF Compressor Free Version



እግርን ማጠብ



ፀጉርን ማጠብ

PDF Compressor Free Version



ገላን ማጠብ



ልጆችን ማስተማር

PDF Compressor Free Version



### ልጆችን ማስጠናት

#### ተግባር 4.1

የቤተሰብህን/ሽን የሥራ ድርሻ ከጓደኛህ/ሽ ጋር በመወያየት ለክፍሉ ግለፅ/ጩ።

2. የልማት ጉዳይ



ፊትን መታጠብ



እጅን መታጠብ



እግርን መታጠብ



ልብስን መልበስ



ጫማን ማድረግ



አልጋን ማንጠፍ

PDF Compressor Free Version

መጫወት



ኳስ መጫወት



የገመድ ዝላይ



የገበግ ጨዋታ



የብይን ጨዋታ



ቅልብልቦሽ መጫወት



BDE Compressor Free Version በግንባታ መስጠን ጤነብብን መርዳት



እጅ ማስታጠብ

ቤት ማፅዳት



ኛግኝ ውሃ ማጠጣት

መግር



የቤት ሥራ መሥራት




ማጥናት

### 4.2 ለጤናማ ጉራ የሚያስፈልጉ መሠረታዊ ነገሮች

#### የግንዛቤ ጥያቄ

ለመኖር ምን ያስፈልጋል?

ሀ/ ምግብ



#### የግንዛቤ ጥያቄ

በቤተሰብህ/ሽ ውስጥ ያለህን/ሽን የሥራ ድርሻ

ግለፅ/ጩ:::

RDF Compressor Free Version



PDF Compressor Free Version



### 4.3 የተገባሪ ቤት ጤናማ ማህበረሰብ

#### የግንዛቤ ጥያቄ

ትምህርት ቤት ውስጥ እነማን ይገኛሉ?



የትምህርት ቤት ማህበረሰብ

### 4.4 የትምህርት ቤት ማህበረሰብ ግንኙነት

#### የግንዛቤ ጥያቄ


1. በትምህርት ቤት ውስጥ ምን ምን ቢጋራ ትሠራላችሁ?
2. በትምህርት ቤት ውስጥ ከጓደኞቻችሁ ጋር የሚትጫወቱትን ጫወታዎች እርስዎ ላችሁ ተናግሩ።

PDF Compressor Free Version

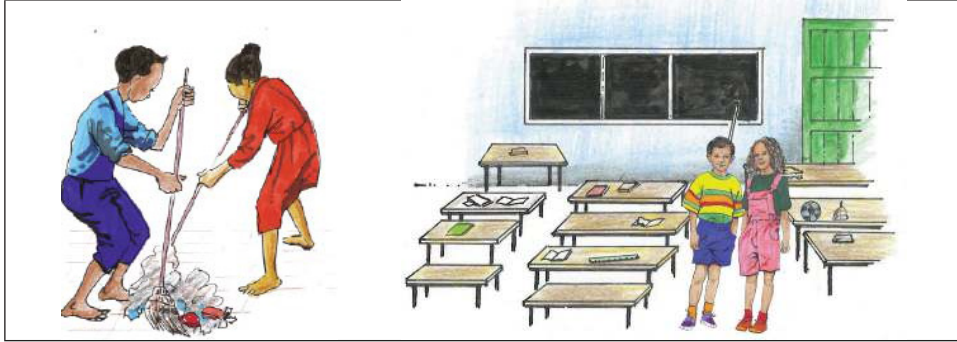
# ተማሪዎች በትምህርት ቤት ውስጥ በጋራ የሚጫወቷቸው የተለያዩ አይነት ጫወታዎች



PDF Compressor Free Version



የመግቢያ ስፋልን በጋራ ማጽደት



የትምህርት ቤት ቅጥር ግቢን በጋራ ማጽዳት





PDF Compressor Free Version



### 4.5 የትምህርት ቤት ሥርዓት ደምብ

የደምብ ልብስን መልበስ  
 የሰንደቅ ዓላማ ሥርዓትን ማክበር  
 የትምህርት ጊዜን ማክበር  
 እፅዋትን መንከባከብ  
 የቤት ሥራን መሥራት  
 የትምህርት ቤትን ማህበረሰብ ማክበር  
 የግል ንፅህናን መጠበቅ  
 ተራን ጠብቆ መጫወት

### የግንዛቤ ጥያቄ

በትምህርት ቤት ሊከበር የሚገባውን ሥነምግባር ለጓደኛህ/ሽ ተናገር/ሪ።

**የምዕራፍ 4 መልመዳ ጥያቄዎች**

**ሀ/ እውነት ወይም ሐሰት በማለት መልስ።**

1. ልጅን ማሳደግ የእናት ድርሻ ብቻ ነው።
2. ለልጆች አብሮ መጫወት መልካም ነው።
3. የወላጆች ድርሻ ልጆችን ተንከባክበው ማሳደግ ነው።
4. ከትምህርት ቤት ሥነምግባር ውስጥ አንዱ መምህራንን ማክበር ነው።

**ለ/ ትክክል የሆነውን ምረጥ/ጫ**

5. ለቤተሰብ የሆነው የቱ ነው?  
ሀ/ አባት ለ/ ልጆች ሐ/ እናት መ/ ሁሉም
6. ለቤተሰብ ኑሮ መሠረታዊ የሆነው የቱ ነው?  
ሀ/ ጫወታ ለ/ መኪና ሐ/ ልብስ መ/ መዝናናት
7. የትምህርት ቤት ሥነምግባር የሆነው የቱ ነው?  
ሀ/ የደምብ ልብስን መልበስ  
ለ/ እፅዋትን መንከባከብ  
ሐ/ የሰንደቅዓላማ ሥርዓትን ማክበር  
መ/ ሁሉም

**ሐ/ የሚከተሉትን ጥያቄዎች መልስ/መልሻ**

1. ለቤተሰብ ኑሮ መሠረታዊ የሆኑ ነገሮች ምን ምን ናቸው?
2. በቤተሰብ ውስጥ የልጆች ድርሻ ምንድነው?
3. የትምህርት ቤት ማህበረሰብ አባላትን ዘርዘር/ሪ።
4. በትምህርት ቤት ውስጥ ተማሪዎች ምን ምን በጋራ ይሠራሉ?

PDF Compressor Free Version

# ምዕራፍ 5


## ትኩረት የሚሹ ዋና ዋና ጉዳዮች

### 5.1. የመንገድ አጠቃቀም ጥንቃቄ

#### 1. መሠረታዊ የትራፊክ ደምቦች/ሕጎች፡-

- ሀ/ በመንገድ ላይ በግራ በኩል መሄድ
- ለ/ መንገድ ስናቋርጥ ዜብራ ምልክትን መጠቀም
- ሐ/ የትራፊክ መብራት ምልክቶችን ማክበር
- መ/ በመንገድ ላይ አለመጫወት
- ሠ/ የትራፊክን መመሪያ መከተል
- ረ/ የእግር መንገድን ጠብቆ መሄድ

#### ሀ/ በመንገድ ላይ በግራ በኩል መሄድ



ለ/ መንገድ ጠገኖች ገንባታ ምልክትን መጠቀም



ሐ/ የትራፊክ መብራት ምልክቶችን ማክበር



የሦስቱ የትራፊክ ቀለሞች ትርጉም ለእግረኞች  
ቀይ ሲበራ ተሻገር/ሪ ማለት ነው።  
በጫ ሲበራ ተዘጋጅ/ጂ ማለት ነው።  
አረንጓዴ ሲበራ ቁም/ሚ ማለት ነው።

መ/ መንገድ ላይ የሚከሰቱትን በፊት ግርጫና ቀኝ በማየት በጥንቃቄ መሻገር



ሠ/ በመንገድ ላይ አለመጫወት



ረ/ የእግር መንገድን ጠብቆ መሄድ



የግንዛቤ ጥያቄ PDF Compressor Free Version

መከበር ያለባቸው መሠረታዊ የትራፊክ ደንቦች/ሕጎች ምንምን ናቸው?

2. የትራፊክን ደምቦች/ሕጎች ባለማክበር የሚከሰቱ አደጋዎች



የግንዛቤ ጥያቄ

ያየሄውን/ሻውን ወይም የሰማሃውን/ሻውን ለአስትማሪ ተናገር/ሪ።

5.2 ኤችአይቪ/ኤድስ

ኤችአይቪ የኤድስን በሽታ የሚያስይዝ ሻይረስ ነው።  
ኤድስ መድኃኒት ሌለው ተላላፊ በሽታ ነው።

ኤችአይቪ/ኤድስ የሚተላለፍባቸው መንገዶች

- ስለት ያላቸውን መሣሪያዎች በጋራ በመጠቀም።
- በዚህ ሻይረስ የተበከለውን ደም በመንካት

የግንዛቤ ጥያቄዎች

1. ኤድስ ምንድነው?
2. የኤድስን በሽታ የሚያስይዝ ሻይረስ ምን ይባላል?

ኤችአይቪ/ኤድስ ጉዳዮች

1. ለተለያዩ በሽታዎችና ለሞት ያጋልጣል።



## 2. ለጅገግ ያለውን የገብቀረት ለችግር ያጋልጣል።



### የግንዛቤ ጥያቄ

በኤችአይቪ/ኤድስ ምክንያት የሚደርሱትን ጉዳዮች ዘርዘር/ሪ።

**ኤችአይቪ/ኤድስ የማይተላለፍባቸው መንገዶች**

### 1. በመጨረሻ





2. PDF Compressor Free Version አብሮ ስሙን ይጻፉ



3. በመተቃቀፍ



4. አብሮ በመብላት



5. PDF Compressor Free Version አብሮ ስራ ማድረግ



6. በጋራ በመወያየት



ኤችአይቪ/ኤድስ የማይተላለፍባቸውን ሌሎች መንገዶች በመጻፍ በክፍል ውስጥ አንብብ/ሊ።

PDF Compressor Free Version

**የምዕራፍ 5 የመልመጃ ጥያቄዎች**

**ሀ/ እውነት ወይም ሐሰት በማለት መልስ/ሺ።**

1. ከትራፊክ ደምቦች/ሐጎች ውስጥ አንዱ መንገድ ስናቋርጥ ዜብራ ምልክትን መጠቀም ነው።
2. በመኪና መንገድ ላይ ስንጓዝ ግራን ይዞ መሄድ።
3. ኤችአይቪ ቫይረስ ተላላፊ አይደለም።

**ለ/ ትክክለኛውን መልስ ምረጥ/ ምረጫ።**

1. በመንገድ ላይ ስትሄድ/ጁ ማድረግ ያለብህ/ሽ የትኛውን ነው?

ሀ/ በመንገድ ላይ መጫወት

ለ/ የትራፊክን ምልክት ጠብቆ ማቋረጥ

መ/ ሁሉም ትክክል ናቸው

2. በኤችአይቪ ቫይረስ የሚመጣ በሽታ ምን ይባላል?

ሀ/ ወባ

ለ/ ጉንፋን

ሐ/ ኤድስ

መ/ ሁሉም ትክክል ናቸው

**ሐ/ የሚከተሉትን ጥያቄዎች መልስ/ሺ።**

1. የሚታወቃቸውን ትራፊክ ደምቦች ዘርዘር/ሪ።
2. ኤችአይቪ/ኤድስ ምንድነው?
3. ኤችአይቪ/ኤድስ ጉዳት ምን ምን ናቸው?



ኢሮሚያ ትምህርት ቤቅ 2014/2022

# አካባቢ ሳይንስ

የተማሪዎች መጽሐፍ

1ኛ ክፍል